



Enseignement scientifique - épreuve anticipée durée 1h 30 - Coefficient : 2

L'élève traitera les questions du thème obligatoire et les questions relatives à l'un des thèmes au choix étudié pendant l'année.

Thème obligatoire Communication nerveuse

Un traitement de l'analgésie congénitale

Document 1

L'analgésie congénitale* est une maladie très rare. Les personnes qui en sont atteintes sont partiellement ou totalement insensibles à la douleur. Elles subissent des brûlures graves, se blessent, se mordent la langue sans s'en rendre compte. N'ayant pas de système d'alarme, puisque ne percevant pas les douleurs périphériques ou internes, elles meurent à un âge précoce.

Parmi les multiples causes invoquées, certaines concernent les transmissions synaptiques impliquées dans la douleur.

En injectant de la naloxone qui est un analogue structural** de l'enképhaline***, à des personnes atteintes d'analgésie, on constate que le seuil de stimulation (intensité de stimulation la plus faible) nécessaire pour faire naître la douleur est diminué.

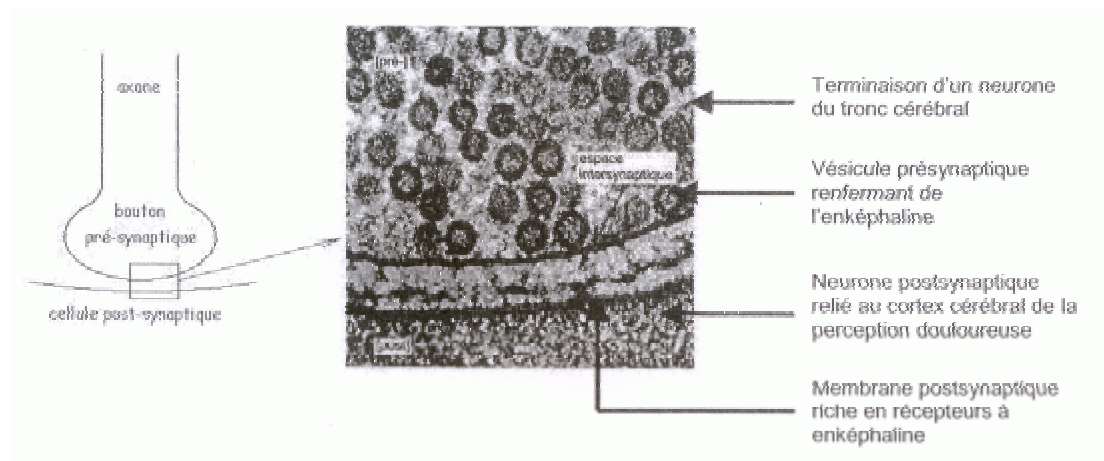
D'après BELIN

*congénital : né avec se dit d'un caractère physique ou organique apporté en naissant (par opposition à acquis)

**analogue structural molécule de même configuration spatiale

***enképhaline : neurotransmetteur inhibant la transmission du message nociceptif

Document 2



Electronographie d'un contact synaptique médullaire
(Microscope électronique à transmission
Grossissement 75000)

Première question (10 points)

Exploiter des documents - Mettre en relation des informations pour valider une hypothèse

L'hypothèse a été émise que la naloxone rétablit chez les malades la sensation de douleur en empêchant l'action de l'enképhaline.

1) Recherchez dans les documents des arguments qui valident cette hypothèse.

2) Expliquez comment la naloxone agirait pour permettre aux malades de retrouver la sensation douloureuse.

Deuxième question (10 points)

Mobiliser ses connaissances.

Présentez sous forme d'un schéma fonctionnel légendé le circuit neuronique du message « douleur » de sa naissance au niveau d'un récepteur de la peau jusqu'aux centres nerveux supérieurs.

Thème au choix

Une ressource naturelle : le bois

Une biotechnologie forestière

Le déracinement d'arbres, souvent en pleine vigueur, par le passage de forts coups de vents (tempête de décembre 1999) crée des ouvertures de dimensions diverses.

Document 1

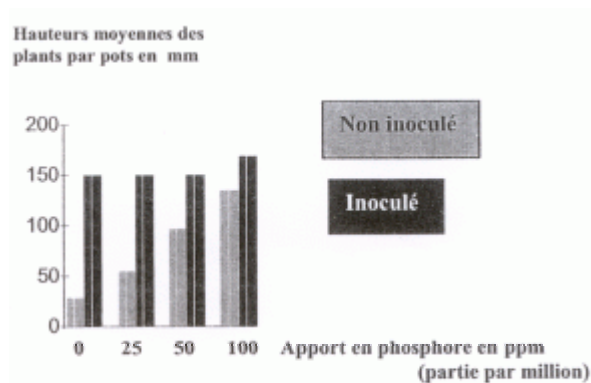
Après chaque tempête, la forêt doit être reconstituée. La régénération naturelle utilise les graines produites par les arbres présents ; le renouvellement est obtenu en quelques années pour le pin et en 20 ans pour le chêne. En cas d'impossibilité, la reconstruction artificielle

nécessite une coupe rase, un labour léger, un semis ou la plantation de jeunes plants élevés en pépinière. De nombreux travaux de recherche ont permis d'améliorer la qualité des jeunes plants utilisés. A l'INRA*, des travaux ont été menés pour utiliser les relations qui s'établissent entre les arbres et les champignons mycorhiziens. Les mycorhizes représentent une association à bénéfice réciproque entre le champignon et l'arbre. On estime qu'autour de chaque centimètre de racine, la longueur totale du filament mycélien peut atteindre près de 1,5 m et représenter jusqu'à 45% de la masse des racines.

Document 2

2a

Des semis d'aulnes sont réalisés dans des pots de même taille remplis d'humus forestier pauvre en phosphates et préalablement stérilisé. Dans une moitié seulement des pots, on inocule un champignon mycorhizien (lot inoculé). Dans chaque pot, inoculé ou non, un apport plus ou moins important de phosphore est réalisé. La taille des plants est mesurée au bout de huit mois de culture en serre. »




2b

De jeunes plants de frênes sont inoculés avec une souche très efficace de champignon mycorhizien, puis transplantés ultérieurement en forêt. Parallèlement, des plants non inoculés sont cultivés dans des conditions identiques.

D'après O. Diagne et F. Le Tacon
INRA*

* Institut National de la Recherche Agronomique



Première question (12 points)

Exploiter des documents

A partir des informations contenues dans les documents, justifiez l'utilisation de la mycorhisation par les forestiers.

Deuxième question (8 points)

Faire preuve d'une culture scientifique

La forêt participe aux grands équilibres de la planète. Montrez que la déforestation a des conséquences majeures sur l'environnement.

Thème au choix

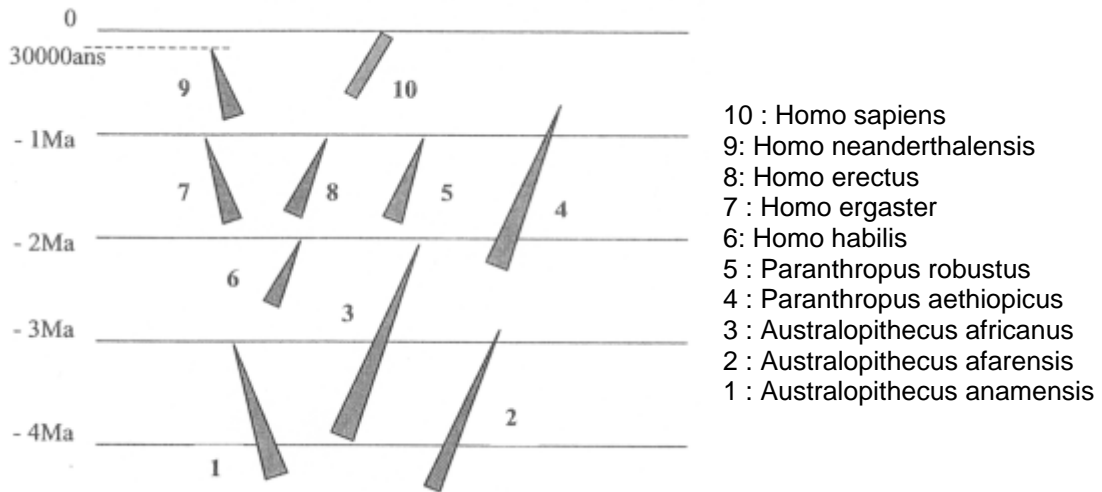
Place de l'Homme dans l'évolution

« L'évolution a été buissonnante. Je dis souvent qu'elle s'est produite par bouquets. »

Yves COPPENS Paléontologue au Collège de France

Document 1

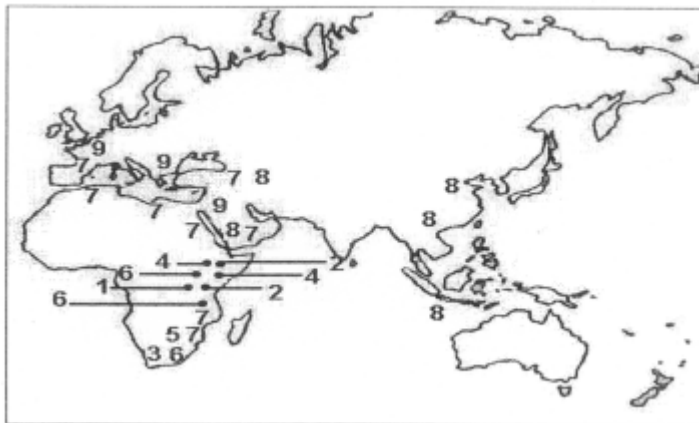
Chronologie des différents hominidés



d'après Picq "les origines de l'Homme" Edition Tallandier

Document 2

Localisation des découvertes des 10 fossiles (les numéros indiqués correspondent aux numéros utilisés dans le document 1 ci dessus)



Remarque :
des fossiles
« 10 » ont été
trouvés sur
tous les
continents.

Première question (9 points)

Saisir et mettre en relation des informations

En mettant en relation les données des documents, montrez que l'histoire évolutive de l'Homme ne se résume pas à une chaîne linéaire mais valide la conception d'Yves COPPENS.

Deuxième question (11 points)

Mobiliser des connaissances et faire preuve d'une culture scientifique

Après avoir précisé la place de l'Homme dans le règne animal, vous expliquerez comment on peut construire des relations de parenté entre les êtres vivants.