

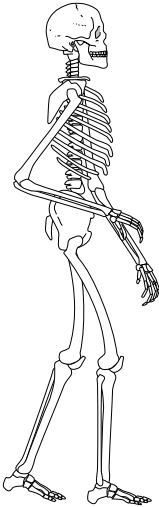
# Les Homininés

► Montrez en utilisant les conclusions tirées de l'analyse des *documents 1 et 2* que les restes osseux A et B appartiennent à des Homininés et précisez le degré de parenté entre les espèces A et B et l'Homme actuel.

*Note.* Le terme d'Homininé désigne toute espèce appartenant à la lignée humaine. Le Chimpanzé n'est pas un Homininé.

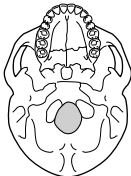
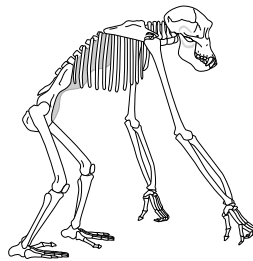
# Données anatomiques relatives à l'Homme et au Chimpanzé

**Homme**

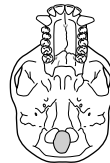


*Les échelles ne sont pas respectées*

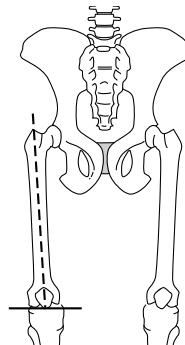
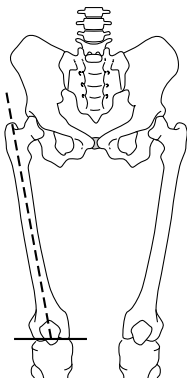
**Chimpanzé**



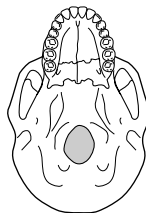
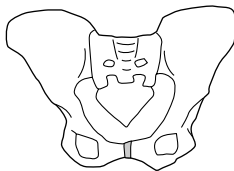
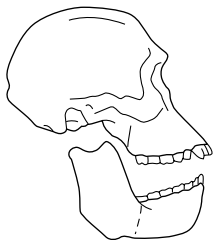
Volume cérébral :  
1 300 à 1 500 cm<sup>3</sup>



Volume cérébral :  
320 à 450 cm<sup>3</sup>

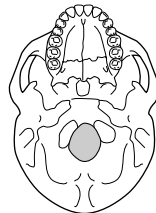
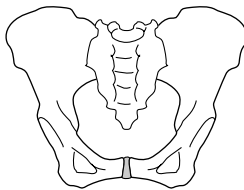
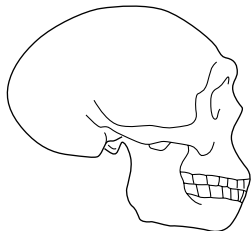


Espèce A



Volume cérébral : 450 cm<sup>3</sup> environ

Espèce B



Volume cérébral : 850 à 1 110 cm<sup>3</sup>